

PROBLEMAS VISUALES DE OPTICA

Problema de ÓPTICA 1




Foto 1

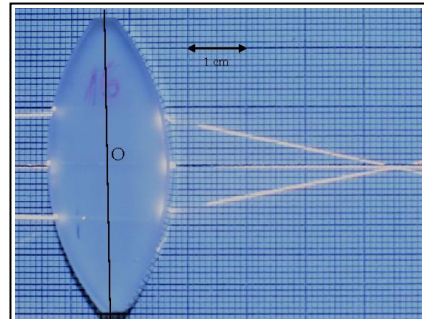


Foto 3




Foto 2

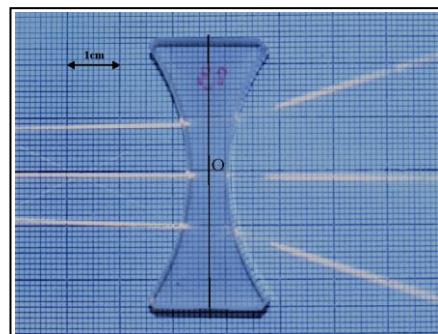


Foto 4

Las cuatro fotografías representan lentes que reciben un haz de luz paralela incidente de izquierda a derecha.

- ¿Cuál es el nombre genérico con que se designan a estas lentes?
- ¿Cómo se denomina el punto en que se cruzan los rayos o sus prolongaciones?
- Mide la distancia focal de cada lente y calcula su potencia en dioptrías